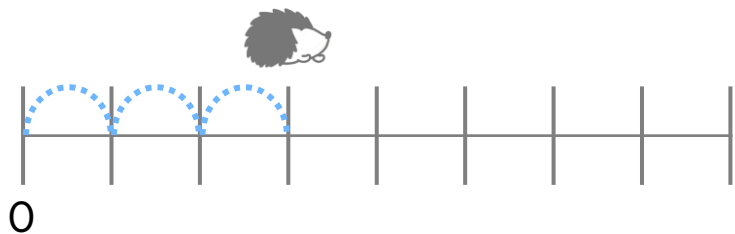


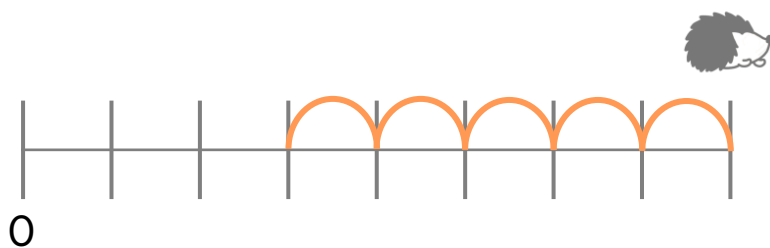
 いくつ あるいた?

つ

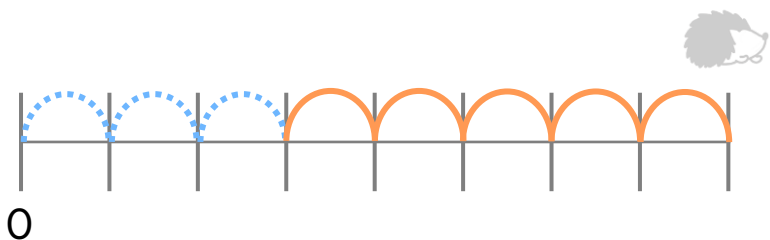


 いくつ あるいた?

つ



ぜんぶで、いくつ あるいた?



つ

3つと いくつで、8つになる?



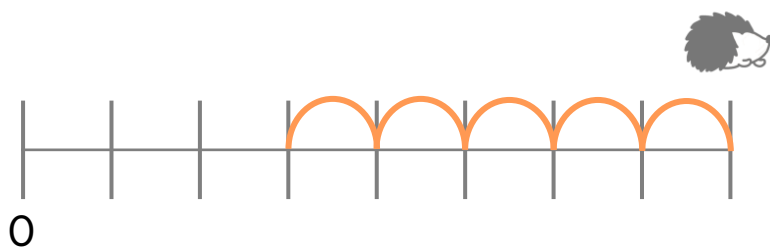
いくつ あるいた?

3 つ

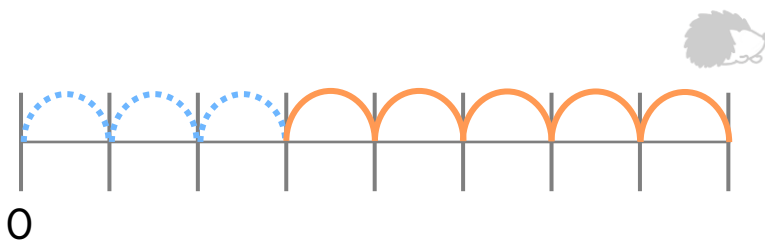


いくつ あるいた?

5 つ



ぜんぶで、いくつ あるいた?



8 つ

3

5

3つと いくつで、8つになる?