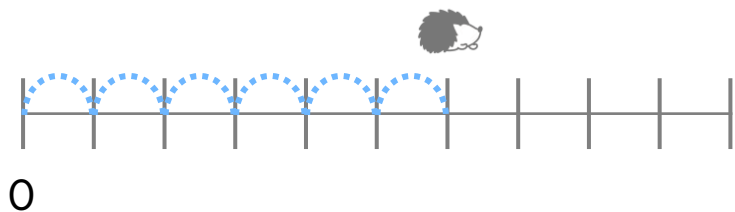
 いくつ あるいた?

つ

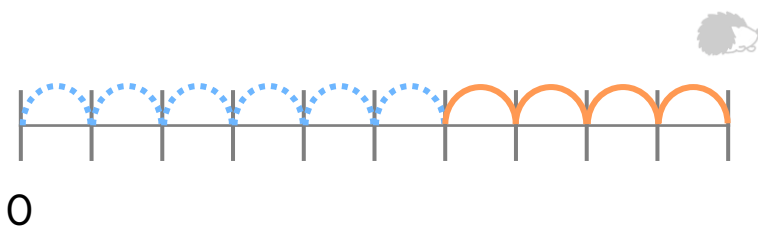


 いくつ あるいた?

つ



ぜんぶで、いくつ あるいた?

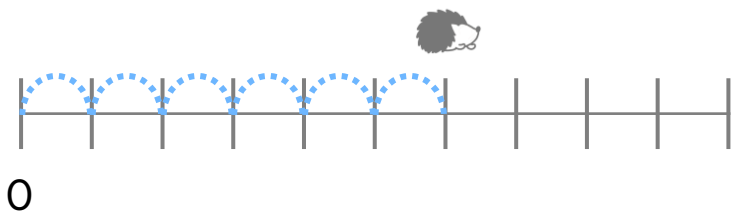


6つと いくつで、10になる?



いくつ あるいた?

6 つ

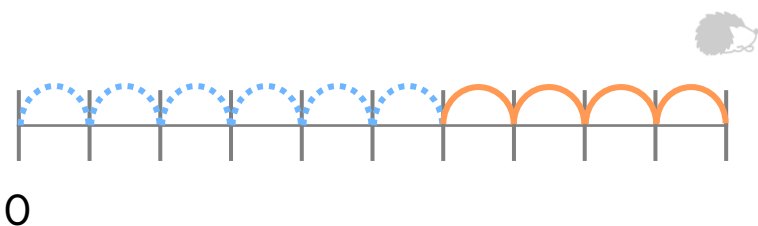


いくつ あるいた?

4 つ



ぜんぶで、いくつ あるいた?



10

6

4

6つと いくつで、10になる?